

NOMBRE RELATOR/A (ES): Guillermo Godoy Cañete

FIRMA:

FECHA: 18/05/24

HORA INICIO: 19:00 hrs

HORA DE TÉRMINO: 20:00 hrs

LUGAR: GOT

Nº CONTRATO: 4600027592

OBJETIVOS: Procedimiento Uso de esmeril angular.

MATERIA(S) TRATADA(S): propósito, alcance, nomenclatura, referencias, Responsabilidades, Definiciones, Descripción o método operacional, equipos, materiales y herramientas, análisis de riesgo de la tarea, Número de emergencias, Orden y aseo, bitácora para solicitar modificaciones en el procedimiento, registro de capacitación y Difusión del procedimiento, registros, anexos.

DECISIONES TOMADAS: Respetar y cumplir con todo lo establecido dentro de este procedimiento de Trabajo Operacionalmente y en seguridad.

COMPROMISOS:

PARTICIPANTES:

	NOMBRE	RUT	CARGO / EMPRESA	FIRMA
1.-	Christophe Ruiz	20.760.045-1	As. Telecom / PSINET	
2.-	Juan Castillo	16.711.302-4	As. Telecom / PSINET	
3.-	Angelo Aguila	16.559.422-7	As. Telecom / PSINET	
4.-	Jose Contreras F	16.188.068-8	As. Telecom / PSINET	
5.-	Manuel Molina	16.892.815-2	As. Telecom / PSINET	
6.-	Jesús Rojas B	18.580.930-7	As. Telecom / PSINET	
7.-	José Lobos C	12.902.339-3	As. Telecom / PSINET	
8.-	Donel Díaz O	17.027.442-5	As. Telecom / PSINET	
9.-				
10.-				
11.-				
12.-				
13.-				
14.-				
15.-				
16.-				
17.-				
18.-				
19.-				
20.-				

Guillermo Godoy Cañete

NOMBRE RELATOR/A (ES): Guillermo Godoy Cañete

FIRMA:

FECHA: 21/03/2025

HORA INICIO: 08:00 hrs

HORA DE TÉRMINO: 09:00 hrs

LUGAR: GOT

Nº CONTRATO: 4600027592


OBJETIVOS: Procedimiento Uso de esmeril angular.


MATERIA(S) TRATADA(S): propósito, alcance, nomenclatura, referencias, Responsabilidades, Definiciones, Descripción o método operacional, equipos, materiales y herramientas, análisis de riesgo de la tarea, Número de emergencias, Orden y aseo, bitácora para solicitar modificaciones en el procedimiento, registro de capacitación y Difusión del procedimiento, registros, anexos.

DECISIONES TOMADAS: Respetar y cumplir con todo lo establecido dentro de este procedimiento de Trabajo Operacionalmente y en seguridad.

COMPROMISOS:

PARTICIPANTES:

	NOMBRE	RUT	CARGO / EMPRESA	FIRMA
1.-	CLEVAN Aguilera	15.610.169-9	Tec. Telecom/PSINET	
2.-				
3.-				
4.-				
5.-				
6.-				
7.-				
8.-				
9.-				
10.-				
11.-				
12.-				
13.-				
14.-				
15.-				
16.-				
17.-				
18.-				
19.-				
20.-				



**Evaluación Procedimiento Trabajo Seguro
"USO DE ESMERIL ANGULAR"**

Nombre: donel lugo RUN: 7741151-3 Firma: [Firma]

Fecha: 18-05-24 Puntaje: 100 Evaluación (%): 100%

Para aprobar esta evaluación escrita es de un 100%.

I. De acuerdo a lo expuesto, indicar es Verdadero (V) o Falso (F), según corresponda: (40 puntos). Justificar las falsas.

1-☒ La ART es considerada una herramienta preventiva. ✓

2-☐ Puedo realizar los trabajos con esmeril angular sin utilizar el EPP indicado en procedimiento. No se puede realizar trabajos con esmeril sin el uso de los EPP correspondientes.

3-☐ Si trabajo con esmeril de 7" puedo colocarle un disco de 4", si no dispongo en bodega. No se puede porque se puede ocasionar riesgos.

4-☒ Antes de comenzar con los trabajos se deberá realizar análisis detallado del trabajo (ART). ✓

II- Responda las siguientes preguntas de alternativas, escogiendo la correcta.

1. Definición de ART: (10 puntos)

- a) Hoja de planificación de trabajo
- b) Análisis del riesgo del trabajador
- ☒ c) Análisis del riesgo de la tarea
- d) Ninguna es correcta

2. Indique algunas de las responsabilidades del trabajador: (10 puntos).

- a) Cumplir con lo establecido en este procedimiento de trabajo
- b) Apoyar en las Solicitudes de autorizaciones correspondientes para ingresar al área de trabajo.
- c) Mantener las áreas de trabajo en las mejores condiciones de orden y aseo en forma permanente.
- d) Reportar de forma inmediata la ocurrencia de un evento no deseado.
- ☒ e) Todas son correctas

3.- La definición de seguridad es: (10 puntos).

- a) Ausencia de riesgos inaceptables de daño.
- b) Fuente, situación o acto, con el potencial de generar daño, lesión o enfermedad.
- c) Es la conducta laboral errónea que omite o desvía de los procedimientos o estándar de trabajo aceptados como correctos por la organización.
- d) Todas son correctas.


4. Algunos de los elementos de protección personal son: (10 puntos)

- a) Casco de seguridad con careta facial.
- b) Guantes de cabritilla.
- c) Zapatos de seguridad dieléctricos.
- d) Protector auditivo.
- e) Traje de cuero completo.
- f) Todas son Correctas.

5.- Los números de emergencias son: (10 puntos).

- a) El Salvador 522474111 – Potrerillo 522473911 – Barquito 522478549
- b) El Salvador 522474133 – Potrerillo 522464111 – Barquito 522484985
- c) El Salvador 522474111 – Potrerillo 522463911 – Barquito 522488549

6.- Nombre las partes del esmeril angular: (10 puntos).



Nombre	Cargo	Supervisor de Telecomunicaciones
Guillermo Godoy Canete	Sep. Telecom	[Firma]

**Evaluación Procedimiento Trabajo Seguro
"USO DE ESMERIL ANGULAR"**

Nombre: Angelo Aguilar RUN: 16.559.422-3 Firma: [Firma]
Fecha: 18/05/2024 Puntaje: 100 Evaluación (%): 100%

Para aprobar esta evaluación escrita es de un 100%.

I. De acuerdo a lo expuesto, indicar es Verdadero (V) o Falso (F), según corresponda: (40 puntos). Justificar las falsas.

1- V... La ART es considerada una herramienta preventiva. ✓

2- F... Puedo realizar los trabajos con esmeril angular sin utilizar el EPP indicado en procedimiento. NO se puede realizar trabajos con esmeril sin el uso de los EPP correspondientes. ✓

3- F... Si trabajo con esmeril de 7" puedo colocarle un disco de 4", si no dispongo en bodega. NO se puede porque se puede ocasionar daños. ✓

4- V... Antes de comenzar con los trabajos se deberá realizar análisis detallado del trabajo (ART). ✓

II- Responda las siguientes preguntas de alternativas, escogiendo la correcta.

1. Definición de ART: (10 puntos)

- a) Hoja de planificación de trabajo
 - b) Análisis del riesgo del trabajador
 - c) Análisis del riesgo de la tarea
 - d) Ninguna es correcta
- ✓

2. Indique algunas de las responsabilidades del trabajador: (10 puntos).

- a) Cumplir con lo establecido en este procedimiento de trabajo
 - b) Apoyar en las Solicitudes de autorizaciones correspondientes para ingresar al área de trabajo.
 - c) Mantener las áreas de trabajo en las mejores condiciones de orden y aseo en forma permanente.
 - d) Reportar de forma inmediata la ocurrencia de un evento no deseado.
 - e) Todas son correctas
- ✓

3.- La definición de seguridad es: (10 puntos).

- a) Ausencia de riesgos inaceptables de daño.
- b) Fuente, situación o acto, con el potencial de generar daño, lesión o enfermedad.
- c) Es la conducta laboral errónea que omite o desvía de los procedimientos o estándar de trabajo aceptados como correctos por la organización.
- d) Todas son correctas.

4. Algunos de los elementos de protección personal son: (10 puntos)

- a) Casco de seguridad con careta facial.
- b) Guantes de cabritilla.
- c) Zapatos de seguridad dieléctricos.
- d) Protector auditivo.
- e) Traje de cuero completo.
- f) Todas son Correctas.

5.- Los números de emergencias son: (10 puntos).

- a) El Salvador 522474111 – Potrerillo 522473911 – Barquito 522478549
- b) El Salvador 522474133 – Potrerillo 522464111 – Barquito 522484985
- c) El Salvador 522474111 – Potrerillo 522463911 – Barquito 522488549

6.- Nombre las partes del esmeril angular: (10 puntos).



psinet
SUPERVISOR DE TELECOMUNICACIONES

Nombre	Cargo	Firma
Guillermo Godoy C	Sup. Tele com	

**Evaluación Procedimiento Trabajo Seguro
"USO DE ESMERIL ANGULAR"**

Nombre: CHRISTOPHER DÍAZ RUN: 20.260.044 Firma: [Firma]
Fecha: 18/05/2024 Puntaje: 100 Evaluación (%): 100%

Para aprobar esta evaluación escrita es de un 100%.

I. De acuerdo a lo expuesto, indicar es Verdadero (V) o Falso (F), según corresponda: (40 puntos). Justificar las falsas.

1- V La ART es considerada una herramienta preventiva. ✓

2- F Puedo realizar los trabajos con esmeril angular sin utilizar el EPP indicado en procedimiento. NO SE PUEDE REALIZAR TRABAJO CON ESMERIL SIN EPP POR QUE EN TODAS LAS ACTIVIDADES SE DEBE UTILIZAR EPP ✓

3- F Si trabajo con esmeril de 7" puedo colocarle un disco de 4", si no dispongo en bodega. NO SE DEBE POR QUE PUEDE PROVOCAR LESIONES DAÑO ✓

4- V Antes de comenzar con los trabajos se deberá realizar análisis detallado del trabajo (ART). ✓

II- Responda las siguientes preguntas de alternativas, escogiendo la correcta.

1. Definición de ART: (10 puntos)

- a) Hoja de planificación de trabajo
- b) Análisis del riesgo del trabajador
- ☒ c) Análisis del riesgo de la tarea
- d) Ninguna es correcta

2. Indique algunas de las responsabilidades del trabajador: (10 puntos).

- a) Cumplir con lo establecido en este procedimiento de trabajo
- b) Apoyar en las Solicitudes de autorizaciones correspondientes para ingresar al área de trabajo.
- c) Mantener las áreas de trabajo en las mejores condiciones de orden y aseo en forma permanente.
- d) Reportar de forma inmediata la ocurrencia de un evento no deseado.
- ☒ e) Todas son correctas

3.- La definición de seguridad es: (10 puntos).

- ☒ a) Ausencia de riesgos inaceptables de daño.
- b) Fuente, situación o acto, con el potencial de generar daño, lesión o enfermedad.
- c) Es la conducta laboral errónea que omite o desvía de los procedimientos o estándar de trabajo aceptados como correctos por la organización.
- d) Todas son correctas.

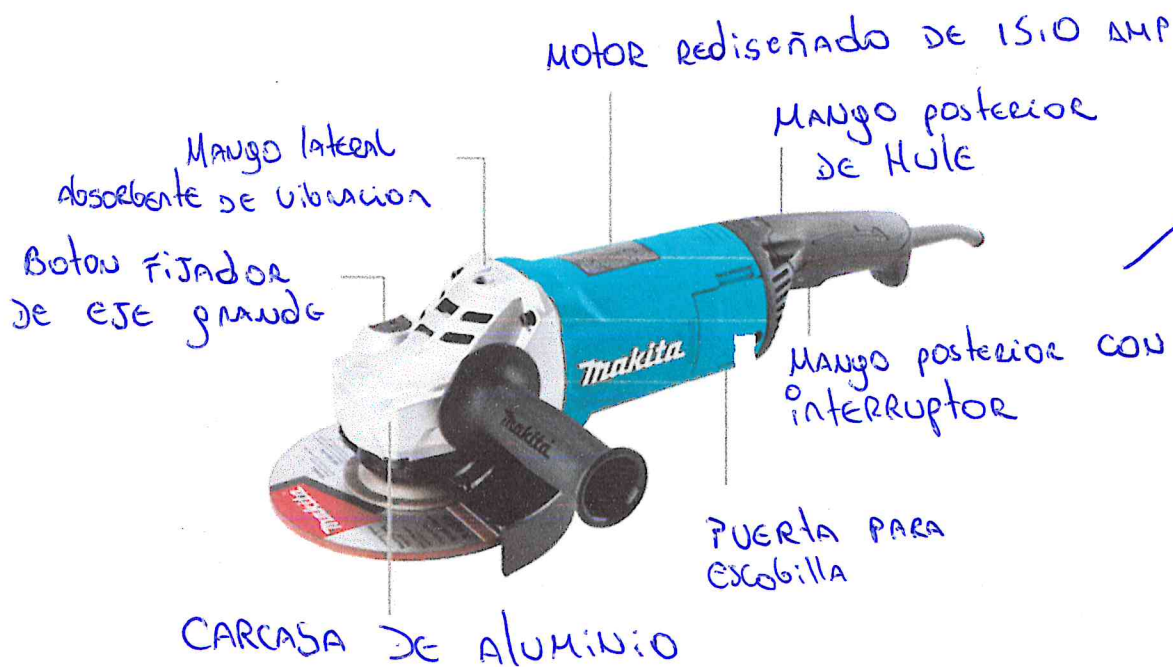
4. Algunos de los elementos de protección personal son: (10 puntos)


- a) Casco de seguridad con careta facial.
- b) Guantes de cabritilla.
- c) Zapatos de seguridad dieléctricos.
- d) Protector auditivo.
- e) Traje de cuero completo.
- ☒ f) Todas son Correctas.

5.- Los números de emergencias son: (10 puntos).

- a) El Salvador 522474111 – Potrerillo 522473911 – Barquito 522478549
- b) El Salvador 522474133 – Potrerillo 522464111 – Barquito 522484985
- ☒ c) El Salvador 522474111 – Potrerillo 522463911 – Barquito 522488549

6.- Nombre las partes del esmeril angular: (10 puntos).



Nombre	Cargo	Firma
Guillermo Godoy C	Sup. Telecom	

Pág. 2 de 2

SUPERVISOR DE TELECOMUNICACIONES

**Evaluación Procedimiento Trabajo Seguro
"USO DE ESMERIL ANGULAR"**

Nombre: Juan Castillo RUN: 16781302-4 Firma: [Firma]
Fecha: 18/05/2024 Puntaje: 100 Evaluación (%): 100%

Para aprobar esta evaluación escrita es de un 100%.

I. De acuerdo a lo expuesto, indicar es Verdadero (V) o Falso (F), según corresponda: (40 puntos). Justificar las falsas.

- 1- ☒ La ART es considerada una herramienta preventiva. ✓
- 2- ☒ Puedo realizar los trabajos con esmeril angular sin utilizar el EPP indicado en procedimiento. se debe utilizar siempre los EPP en caso de activación ✓
- 3- ☒ Si trabajo con esmeril de 7" puedo colocarle un disco de 4", si no dispongo en bodega. no se debe utilizar un disco de otra medida ya que no es adecuado al equipo y puede producir algún daño ✓
- 4- ☒ Antes de comenzar con los trabajos se deberá realizar análisis detallado del trabajo (ART). ✓

II- Responda las siguientes preguntas de alternativas, escogiendo la correcta.

1. Definición de ART: (10 puntos)

- a) Hoja de planificación de trabajo
- b) Análisis del riesgo del trabajador
- ☒ c) Análisis del riesgo de la tarea
- d) Ninguna es correcta

2. Indique algunas de las responsabilidades del trabajador: (10 puntos).

- a) Cumplir con lo establecido en este procedimiento de trabajo
- b) Apoyar en las Solicitudes de autorizaciones correspondientes para ingresar al área de trabajo.
- c) Mantener las áreas de trabajo en las mejores condiciones de orden y aseo en forma permanente.
- d) Reportar de forma inmediata la ocurrencia de un evento no deseado.
- ☒ e) Todas son correctas ✓

3.- La definición de seguridad es: (10 puntos).

- ☒ a) Ausencia de riesgos inaceptables de daño.
- b) Fuente, situación o acto, con el potencial de generar daño, lesión o enfermedad.
- c) Es la conducta laboral errónea que omite o desvía de los procedimientos o estándar de trabajo aceptados como correctos por la organización.
- d) Todas son correctas.


4. Algunos de los elementos de protección personal son: (10 puntos)

- a) Casco de seguridad con careta facial.
- b) Guantes de cabritilla.
- c) Zapatos de seguridad dieléctricos.
- d) Protector auditivo.
- e) Traje de cuero completo.
- ☒ f) Todas son Correctas.

5.- Los números de emergencias son: (10 puntos).

- a) El Salvador 522474111 – Potrerillo 522473911 – Barquito 522478549
- b) El Salvador 522474133 – Potrerillo 522464111 – Barquito 522484985
- ☒ c) El Salvador 522474111 – Potrerillo 522463911 – Barquito 522488549

6.- Nombre las partes del esmeril angular: (10 puntos).



Nombre	Cargo	Firma
Guillermo Godoy C	Sep. Telecom	

PSINet
SUPERVISOR DE TELECOMUNICACIONES

**Evaluación Procedimiento Trabajo Seguro
"USO DE ESMERIL ANGULAR"**

Nombre: Henry RUN: 16.837.695-2 Firma: [Firma]
Fecha: 18/05/2024 Puntaje: 100 Evaluación (%): 100%

Para aprobar esta evaluación escrita es de un 100%.

I. De acuerdo a lo expuesto, indicar es Verdadero (V) o Falso (F), según corresponda: (40 puntos). Justificar las falsas.

- 1-...☒... La ART es considerada una herramienta preventiva.
- 2-...☐... Puedo realizar los trabajos con esmeril angular sin utilizar el EPP indicado en procedimiento. no debe usar epp en cada actividad
- 3-...☐... Si trabajo con esmeril de 7" puedo colocarle un disco de 4", si no dispongo en bodega. por ningún motivo siempre uso el disco adecuado
- 4-...☒... Antes de comenzar con los trabajos se deberá realizar análisis detallado del trabajo (ART).

II- Responda las siguientes preguntas de alternativas, escogiendo la correcta.

1. Definición de ART: (10 puntos)

- a) Hoja de planificación de trabajo
- b) Análisis del riesgo del trabajador
- ☒ c) Análisis del riesgo de la tarea
- d) Ninguna es correcta

2. Indique algunas de las responsabilidades del trabajador: (10 puntos).

- a) Cumplir con lo establecido en este procedimiento de trabajo
- b) Apoyar en las Solicitudes de autorizaciones correspondientes para ingresar al área de trabajo.
- c) Mantener las áreas de trabajo en las mejores condiciones de orden y aseo en forma permanente.
- d) Reportar de forma inmediata la ocurrencia de un evento no deseado.
- ☒ e) Todas son correctas

3.- La definición de seguridad es: (10 puntos).

- a) Ausencia de riesgos inaceptables de daño.
- b) Fuente, situación o acto, con el potencial de generar daño, lesión o enfermedad.
- c) Es la conducta laboral errónea que omite o desvía de los procedimientos o estándar de trabajo aceptados como correctos por la organización.
- d) Todas son correctas.


4. Algunos de los elementos de protección personal son: (10 puntos)

- a) Casco de seguridad con careta facial.
- b) Guantes de cabritilla.
- c) Zapatos de seguridad dieléctricos.
- d) Protector auditivo.
- e) Traje de cuero completo.
- f) Todas son Correctas.

5.- Los números de emergencias son: (10 puntos).

- a) El Salvador 522474111 – Potrerillo 522473911 – Barquito 522478549
- b) El Salvador 522474133 – Potrerillo 522464111 – Barquito 522484985
- c) El Salvador 522474111 – Potrerillo 522463911 – Barquito 522488549

6.- Nombre las partes del esmeril angular: (10 puntos).



Nombre	Cargos	Firma
Guillermo Gaby Cárdenas	Sup. Tele.com	[Firma]

Evaluación Procedimiento Trabajo Seguro
"USO DE ESMERIL ANGULAR"

Nombre: José Contreras Flares RUN: 16.18806P-8 Firma: [Firma]

Fecha: 18/05/24 Puntaje: 100 Evaluación (%): 100%

Para aprobar esta evaluación escrita es de un 100%.

I. De acuerdo a lo expuesto, indicar es Verdadero (V) o Falso (F), según corresponda: (40 puntos). Justificar las falsas.

1-...V... La ART es considerada una herramienta preventiva. /

2-...F... Puedo realizar los trabajos con esmeril angular sin utilizar el EPP indicado en procedimiento. Se debe usar EPP en cada actividad a realizar /

3-...F... Si trabajo con esmeril de 7" puedo colocarle un disco de 4", si no dispongo en bodega. Uso de disco adecuado para la actividad por cualquier tipo de disco /

4-...V... Antes de comenzar con los trabajos se deberá realizar análisis detallado del trabajo (ART). /

II- Responda las siguientes preguntas de alternativas, escogiendo la correcta.

1. Definición de ART: (10 puntos)

- a) Hoja de planificación de trabajo
- b) Análisis del riesgo del trabajador
- c) Análisis del riesgo de la tarea
- d) Ninguna es correcta

2. Indique algunas de las responsabilidades del trabajador: (10 puntos).

- a) Cumplir con lo establecido en este procedimiento de trabajo
- b) Apoyar en las Solicitudes de autorizaciones correspondientes para ingresar al área de trabajo. /
- c) Mantener las áreas de trabajo en las mejores condiciones de orden y aseo en forma permanente.
- d) Reportar de forma inmediata la ocurrencia de un evento no deseado.
- e) Todas son correctas

3.- La definición de seguridad es: (10 puntos).

- a) Ausencia de riesgos inaceptables de daño.
- b) Fuente, situación o acto, con el potencial de generar daño, lesión o enfermedad.
- c) Es la conducta laboral errónea que omite o desvía de los procedimientos o estándar de trabajo aceptados como correctos por la organización.
- d) Todas son correctas.


4. Algunos de los elementos de protección personal son: (10 puntos)

- a) Casco de seguridad con careta facial.
- b) Guantes de cabritilla.
- c) Zapatos de seguridad dieléctricos.
- d) Protector auditivo.
- e) Traje de cuero completo.
- f) Todas son Correctas.

5.- Los números de emergencias son: (10 puntos).

- a) El Salvador 522474111 – Potrerillo 522473911 – Barquito 522478549
- b) El Salvador 522474133 – Potrerillo 522464111 – Barquito 522484985
- c) El Salvador 522474111 – Potrerillo 522463911 – Barquito 522488549


6.- Nombre las partes del esmeril angular: (10 puntos).



Nombre	Cargo	Firma
Guillermo Cecily Carrete	Sup. Telecom	



**Evaluación Procedimiento Trabajo Seguro
"USO DE ESMERIL ANGULAR"**

Nombre: Jesús Rojas A. RUN: 18580930-7 Firma: 
Fecha: 18/05/24 Puntaje: 100 Evaluación (%): 100%

Para aprobar esta evaluación escrita es de un 100%.

I. De acuerdo a lo expuesto, indicar es Verdadero (V) o Falso (F), según corresponda: (40 puntos). Justificar las falsas.

1- V... La ART es considerada una herramienta preventiva. ✓

2- F... Puedo realizar los trabajos con esmeril angular sin utilizar el EPP indicado en procedimiento. Se debe OBLIGAR EPP EN TODO TIPO DE ACTIVIDAD A REALIZAR

3- F... Si trabajo con esmeril de 7" puedo colocarle un disco de 4", si no dispongo en bodega. Se debe OBLIGAR DISCO ADECUADO

4- V... Antes de comenzar con los trabajos se deberá realizar análisis detallado del trabajo (ART). ✓

II- Responda las siguientes preguntas de alternativas, escogiendo la correcta.

1. Definición de ART: (10 puntos)

- a) Hoja de planificación de trabajo
- b) Análisis del riesgo del trabajador
- c) Análisis del riesgo de la tarea ✓
- d) Ninguna es correcta

2. Indique algunas de las responsabilidades del trabajador: (10 puntos).

- a) Cumplir con lo establecido en este procedimiento de trabajo
- b) Apoyar en las Solicitudes de autorizaciones correspondientes para ingresar al área de trabajo.
- c) Mantener las áreas de trabajo en las mejores condiciones de orden y aseo en forma permanente.
- d) Reportar de forma inmediata la ocurrencia de un evento no deseado.
- e) Todas son correctas ✓

3.- La definición de seguridad es: (10 puntos).

- a) Ausencia de riesgos inaceptables de daño.
- b) Fuente, situación o acto, con el potencial de generar daño, lesión o enfermedad.
- c) Es la conducta laboral errónea que omite o desvía de los procedimientos o estándar de trabajo aceptados como correctos por la organización.
- d) Todas son correctas.

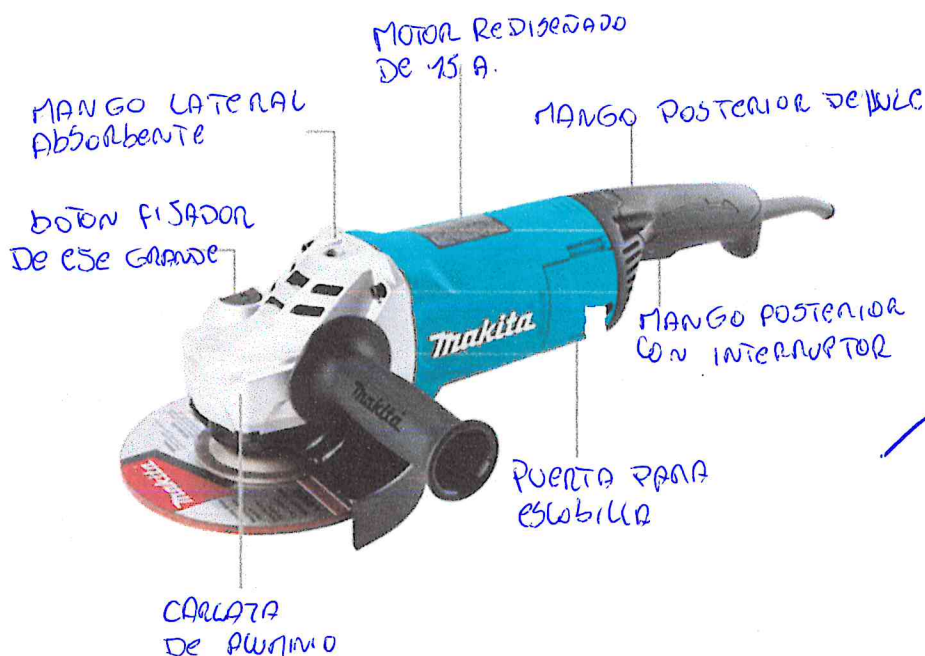
4. Algunos de los elementos de protección personal son: (10 puntos)

- a) Casco de seguridad con careta facial.
- b) Guantes de cabritilla.
- c) Zapatos de seguridad dieléctricos.
- d) Protector auditivo.
- e) Traje de cuero completo.
- f) Todas son Correctas.

5.- Los números de emergencias son: (10 puntos).

- a) El Salvador 522474111 – Potrerillo 522473911 – Barquito 522478549
- b) El Salvador 522474133 – Potrerillo 522464111 – Barquito 522484985
- c) El Salvador 522474111 – Potrerillo 522463911 – Barquito 522488549

6.- Nombre las partes del esmeril angular: (10 puntos).



Nombre	Cargo	Firma
Benito Godoy	Sep. Telecom	[Firma]

PSNet
SUPERVISOR DE TELECOMUNICACIONES

**Evaluación Procedimiento Trabajo Seguro
"USO DE ESMERIL ANGULAR"**

Nombre: CLEVAN AGUILAR C. RUN : 15.610.769-7 Firma: [Firma]

Fecha: 21/03/2025 Puntaje: 100 Evaluación (%): 100%

Para aprobar esta evaluación escrita es de un 100%.

I. De acuerdo a lo expuesto, indicar es Verdadero (V) o Falso (F), según corresponda: (40 puntos). Justificar las falsas.

1- V La ART es considerada una herramienta preventiva.

2- F Puedo realizar los trabajos con esmeril angular sin utilizar el EPP indicado en procedimiento.

3- F Si trabajo con esmeril de 7" puedo colocarle un disco de 4", si no dispongo en bodega.

4- V Antes de comenzar con los trabajos se deberá realizar análisis detallado del trabajo (ART).

II- Responda las siguientes preguntas de alternativas, escogiendo la correcta.

1. Definición de ART: (10 puntos)

- a) Hoja de planificación de trabajo
- b) Análisis del riesgo del trabajador
- c) Análisis del riesgo de la tarea
- d) Ninguna es correcta

2. Indique algunas de las responsabilidades del trabajador: (10 puntos).

- a) Cumplir con lo establecido en este procedimiento de trabajo
- b) Apoyar en las Solicitudes de autorizaciones correspondientes para ingresar al área de trabajo.
- c) Mantener las áreas de trabajo en las mejores condiciones de orden y aseo en forma permanente.
- d) Reportar de forma inmediata la ocurrencia de un evento no deseado.
- e) Todas son correctas

3.- La definición de seguridad es: (10 puntos).

- a) Ausencia de riesgos inaceptables de daño.
- b) Fuente, situación o acto, con el potencial de generar daño, lesión o enfermedad.
- c) Es la conducta laboral errónea que omite o desvía de los procedimientos o estándar de trabajo aceptados como correctos por la organización.
- d) Todas son correctas.

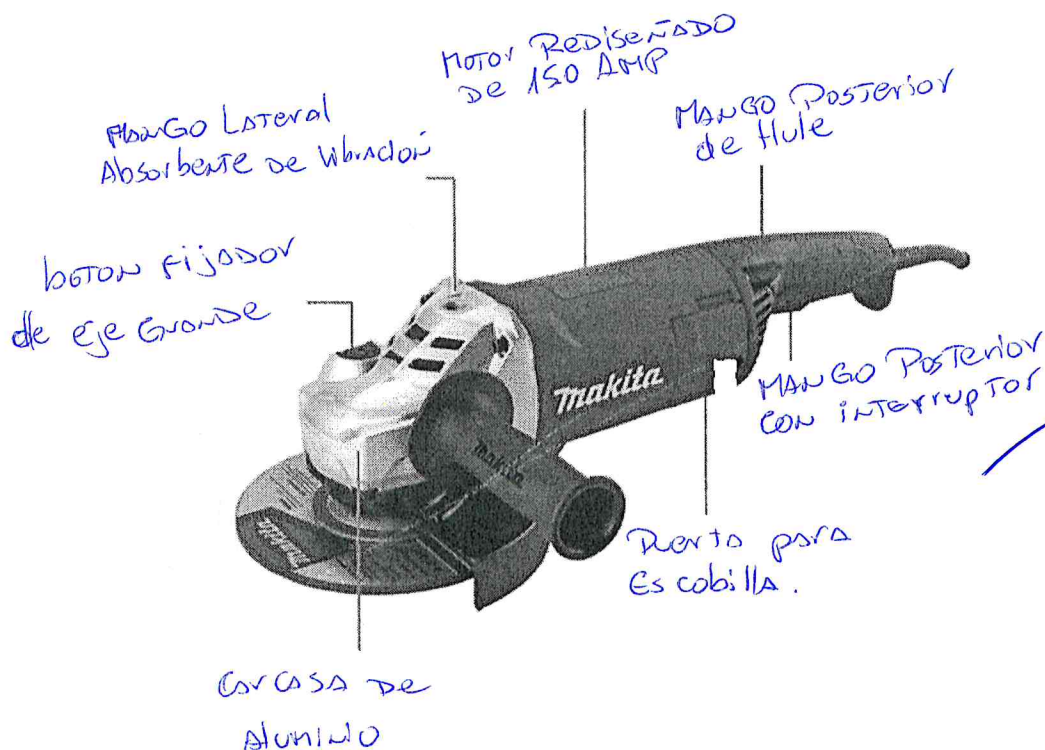
4. Algunos de los elementos de protección personal son: (10 puntos)

- a) Casco de seguridad con careta facial.
- b) Guantes de cabritilla.
- c) Zapatos de seguridad dieléctricos.
- d) Protector auditivo.
- e) Traje de cuero completo.
- f) Todas son Correctas.

5.- Los números de emergencias son: (10 puntos).

- a) El Salvador 522474111 – Potrerillo 522473911 – Barquito 522478549
- b) El Salvador 522474133 – Potrerillo 522464111 – Barquito 522484985
- c) El Salvador 522474111 – Potrerillo 522463911 – Barquito 522488549

6.- Nombre las partes del esmeril angular: (10 puntos).



Nombre	Cargo	Firma
Guillermo Oday Conete	Sup. Telecom	